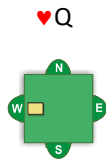


Olet tehtävissä pelinviejänä lännen (W) kädessä. Pelaat peliä ilman valttia.

Tehtävä 1

♠ AK52  
♥ AK  
♦ QJ3  
♣ J643



♠ Q6  
♥ 85  
♦ K10952  
♣ A862

- Kuinka monta pikatikkiä sinulla on ?
- Tarvitset 9 tikkiä, mistä maasta kasvatat lisää tikkejä?
- Pohjoinen lähtee ♥Q:lla, voitat tikin kuninkaalla. Mitä pelaat tikkiin 2?

Tehtävä 2

♠ A52  
♥ A73  
♦ KQ32  
♣ J84

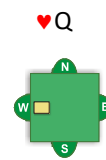


♠ K6  
♥ 852  
♦ J1095  
♣ A762

- Kuinka monta pikatikkiä sinulla on ?
- Tarvitset 7 tikkiä, mistä maasta kasvatat lisää tikkejä?
- Pohjoinen lähtee ♥Q:lla ja voitat tikin ässällä. Mitä pelaat tikkiin 2?

Tehtävä 3

♠ A63  
♥ A8  
♦ AJ6  
♣ 98643

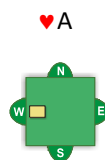


♠ 974  
♥ 752  
♦ 9752  
♣ AK7

- Kuinka monta pikatikkiä sinulla on ?
- Tarvitset 7 tikkiä, mistä maasta kasvatat lisää tikkejä?
- Pohjoinen lähtee ♥Q:lla ja otat tikin ässällä. Mitä jatkat?

Tehtävä 4

♠ AKQJ  
♥ 965  
♦ A642  
♣ A5

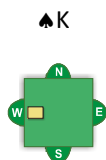


♠ 86  
♥ 84  
♦ J1093  
♣ KQJ107

- Kuinka monta pikatikkiä sinulla on ?
- Puolustus ottaa aluksi 4 herttatikkiä, mitä saakat lännen kädessä 4. herttakierrokseen?
- Montako tikkiä saat?

Tehtävä 5

♠ A5  
♥ A873  
♦ AQ6  
♣ QJ86

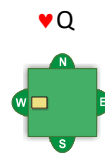


♠ 74  
♥ K2  
♦ KJ9743  
♣ K107

- Kuinka monta pikatikkiä sinulla on ?
- Tarvitset 9 tikkiä, miten pelaat kun pohjoinen lähtee pata kuninkalla ?

Tehtävä 6

♠ AK5  
♥ A8  
♦ AQ6  
♣ 98643



♠ 974  
♥ 752  
♦ K87432  
♣ Q7

- Kuinka monta pikatikkiä sinulla on ?
- Tarvitset 9 tikkiä, mistä maasta kasvatat lisätikkejä?
- Kuinka käsittelet ruutuväriin?

Tehtävä 7

♠ AQ74<sup>a</sup> AQ74  
♥ AK<sup>©</sup> AK  
♦ Q53<sup>''</sup> Q53  
♣ AKQ5<sup>§</sup> AKQ5



♠ 86<sup>a</sup> 86  
♥ QJ9642<sup>©</sup>  
QJ9642  
♦ A74<sup>''</sup> A74  
♣ 63<sup>§</sup> 63

♠ 2

- Pohjoinen lähtee ♠J:llä ja etelä pelaa pienen, Pohjoinen lähtee) mitä pelaat lännen kädessä?
- Kuinka monta pikatikkiä sinulla on?
- Tee pelinvientisuunnitelma kun tarvitset 12 tikkiä

Tehtävä 8

♠ A6<sup>a</sup> A6  
♥ A85<sup>©</sup> A85  
♦ KQ4<sup>''</sup> KQ4  
♣ 98643<sup>§</sup>  
98643



♠ K5<sup>a</sup> K5  
♥ 752<sup>©</sup> 752  
♦ J10952<sup>''</sup>  
J10952  
♣ Q72<sup>§</sup> Q72

- Kuinka monta pikatikkiä sinulla on ?
- Tarvitset 7 tikkiä, mistä maasta kasvatat lisätikkejä?
- Kuinka käsittelet ruutuväriin?
- Pohjoinen lähtee pata rouvalla, otatko 1. tikin ♠A:llä vai ♠K:lla? otatko 1. tikin ♠A:llä vai ♠K:llä.

### Vastaukset tehtäviin

#### Tehtävä 1

- a) 6 pikatikkiä:  $3\spadesuit + 2\heartsuit + 0\diamonds + 1\clubsuit$  6 pikatikkiä:  $3\spadesuit + 2\heartsuit + 0\diamonds + 1\clubsuit$
- b) Ruudusta
- c) Pelaat kädestäsi  $\diamondsuit$  Q:n, jos saat pitää tikin (tai kun olet seuraavan kerran kiinni) jatkat sotamiehellä Pelaat kädestäsi  $\diamondsuit$  Q:n, jos saat lopuksi pieni ruutu kuninkaalle ja voit ottaa kasvaneet ruututikit.  
Vahvat värit käsitellään niin, että ensin pelataan kuvat siitä kädestä, jossa kyseistä väriä on vähemmän.

#### Tehtävä 2

- a) 4 pikatikkiä:  $2\spadesuit + 1\heartsuit + 0\diamonds + 1\clubsuit$
- b) Ruudusta
- c) Aloitat ruudun kasvattamisen. Nyt on melkein sama kuinka ruutua pelaat, kun väri on yhtä pitkä molemmissa käsissä ja sinulla on kaikki isot kortit ässää lukuunottamatta.

#### Tehtävä 3

- a) 5 pikatikkiä:  $2\spadesuit + 1\heartsuit + 0\diamonds + 2\clubsuit$
- b) Rististä. Se on pisin yhteinen maa, sinulla on sitä yhteensä 8 korttia ja puolustajilla vain 5.  
Jos väri istuu vastustajilla tasan eli toisella on niitä 2 ja toisella 3, saat kasvatettua 2 pientä ristiä tikiksi.
- c) Aloitat saman tien ristin kasvattamisen. Pelaat A:n ja K:n ja jos molemmat tunnustaa niin 3. ristikerroksen, jonka puolustus saa. Kun puolustus pelaa isoja herttojaan voit sakata pieniä patoja tai ruutuja pois, mutta säästät kasvaneet ristisi. Kun olet seuraavan kerran kiinni pata tai ruutu ässällä, pelaat kasvaneet ristihakkusi, joilla saat tikit.

#### Tehtävä 4

- a) 10 pikatikkiä:  $4\spadesuit + 0\heartsuit + 1\diamonds + 5\clubsuit$
- b) Sakaat pienen ruudun. Ristihakkuasi et saa heittää pois, koska se on yhteyskortti pöydän vahvoille risteille.
- c) Saat 9 tikkiä. Vaikka sinulla on varmat 10 tikkiä, niin puolustus ennättää ensin ottaa 4 tikkiä päästämättä sinua kiinni. Kun jaossa on vain 13 tikkiä, niin sinulle ei jää kuin 9 tikkiä.

#### Tehtävä 5

- a) 7 pikatikkiä:  $1\spadesuit + 2\heartsuit + 4\diamonds + 0\clubsuit$ , lisäksi ruudusta kasvaa varmasti 2 tikkiä lisää. Sinulla on 9 kortin ruutu, jossa on 4 korkeinta korttia. Puolustuksella on vain 4 korttia ruutua, joten vaikka väri istuisi niin että toisella on kaikki 4 ruutua ja toisella 0 ruutua, niin kun pelaat ruutua isosta päästä (A,K,B,J) niin pienet ruutusi kasvavat varmasti.
- b) Vaikka sinulla olisi mahdollisuus kasvattaa lisää tikkejä rististä, niin nyt otat vaan varmat 9 tikkiäsi eli 7 pikatikkiä ja varmat kaksi kasvanutta ruutuhakkuja. Puolustukselle on kasvanut vähintään 4 patatikkiä lähdön jälkeen: sinulla on vain 4 pataa, joten puolustuksella on niitä 9. Jos väri istuu puolustuksella tasan 5-4, niin otettuasi tikin pata ässällä, on puolustuksen padat kasvaneet ja he siis saavat vähintään 4 patatikkiä. Joten jos puolustus saa risti ässän ja 4 patatikkiä, sinulle jää vain 8 tikkiä kun pelissä on jaossa kaikkiaan 13 tikkiä.

#### Tehtävä 6

- a) 6 pikatikkiä:  $2\spadesuit + 1\heartsuit + 3\diamonds + 0\clubsuit$
- b) Ruutu on ainut mahdollinen kasvatusväri. Sinulla on 9 kortin ruutuväri, jossa 3 korkeinta korttia. Joten jos se on puolustuksella tasan tai 3-1, niin saat kasvatettua väristä 3 lisätikkiä.
- c) Pelaat taas kuvat ensin siitä kädestä, jossa väriä on vähemmän. Eli ensin kädestä A ja pöydästä 2, toiseen tikkiin Q ja pöydästä 3 ja kolmanteen tikkiin kädestä hakku jonka otat kuninkaalla yli ja jos hakut ovat kasvaneet (kumpikin puolustaja tunnusti ruutua 1. ruututikkiin) niin pelaat kasvaneet hakut.

Tehtävä 7

- a) Saat tikin rouvalla, joten pelaat sen.
- b) 9 pikatikkiä: 1 ♠ + 4 ♥ + 1 ♦ + 3 ♣, lisäksi sait löhdöstä pata rouvalla tikin, joten nyt sinulla on 10 varmaa tikkiä
- c) Hertassa sinulla on hyvin todennäköisesti 2 tikkiä lisää: sinulla on yhteensä 8 kortin herttaväri, jossa 4 korkeinta korttia. Jos hertta ei ole puolustuksella 5-0, joka on hyvin epätodennäköistä, niin pöytään kasvaa sinulle 2 hakkua tikeiksi. Nyt vaan on oltava tarkkana, että otat tikit oikeassa järjestyksessä: ensin pelaat kaksi kierrosta herttaa ja saat tikit ässällä ja kuninkaalla. Sen jälkeen pelaat pienen ruudun ja otat tikin pöydän ässällä ja jatkat pelaamalla herttojasi 4 kierrosta isosta päästä: Q, J, 9, 6. Hertoille heität pieniä kortteja kädestäsi ja lopuksi otat isot ristit ja pata ässän.

Tehtävä 8

- a) 3 pikatikkiä: 2 ♠ + 1 ♥ + 0 ♦ + 0 ♣
- b) Ruudusta saat kasvatettua 4 tikkiä, kunhan pakotat vastustajan ottamaan tikin ässällään.
- c) Kuvat taas pelataan ensin siitä kädestä, jossa väriä on vähemmän, joten 1. ruututikkiin K kädestä ja pöydästä pieni, toiseen Q kädestä ja taas pöydästä pieni ja 3. ruutukierrokseen pieni kädestä ja J pöydästä.
- d) Otat 1. tikin käteesi ässällä. Bridgessä ei ole ylimenopakkoa, joten puolustus ei välttämättä ota ruutuässällä heti tikkiä vaan voi pelata ässänsä vasta 3. ruutukierrokseen. Jos olet tuhlannut pata kuninkaan 1. tikkiin, niin siinä tapauksessa et saa haettua enää kahta kasvanutta ruututikkiä, kun et pääse pöytään enää kiinni.



aat pitää tikin (tai kun olet seuraavan kerran kiinni) jatkat sotamiehellä

