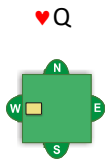


Olet tehtävissä pelinviejänä lännen (W) kädessä. Kaikissa tehtävissä pata on valttia.

Tehtävä 1

♠ AQJ104
♥ 3
♦ Q964
♣ K53



♠ K752
♥ 875
♦ J105
♣ A72

- Kuinka monta valttia puolustuksella on yhteensä?
- Kummasta kädestä lasket menevät ?
- Kuinka monta menevää on siinä kädessä?
- Tarvitsetko valtteja ennen kuin valtaat?
- Kun valttaat, molemmat tunnustavat 1. valttikierrokseen, mutta toiseen pohjoinen heittää pienen ruudun. Montako kierrosta tarvitset kaikkiaan poistaaksesi puolustuksen valtit?
- Pohjoinen lähtee ♥Q:lla ja saadessaan tikin jatkaa ♥J:lla. Tee pelinvientisuunnitelma kun tarvitset 10 tikkiä.

Tehtävä 2

♠ AJ753
♥ 109
♦ Q64
♣ KQJ

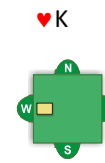


♠ K64
♥ 8542
♦ AK52
♣ 53

- Kuinka monta valttia puolustuksella on yhteensä?
- Kummasta kädestä lasket menevät ?
- Kuinka monta menevää on siinä kädessä?
- Tarvitsetko valtteja ennen kuin valtaat?
- Pohjoinen lähtee ♥A:lla, jatkaa ♥K:lla ja pelaa kolmanteen tikkiin pienen hertan etelän rouvalle. Tee pelinvientisuunnitelma kun tarvitset 10 tikkiä.

Tehtävä 3

♠ K10864
♥ A85
♦ Q76
♣ K3

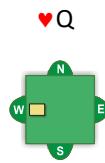


♠ AQ73
♥ 742
♦ J5
♣ AQJ2

- Kuinka monta valttia puolustuksella on yhteensä?
- Kummasta kädestä lasket menevät ?
- Kuinka monta menevää on siinä kädessä?
- Tarvitsetko valtteja ennen kuin valtaat?
- Pohjoinen lähtee ♥K:lla. Tee pelinvientisuunnitelma kun tarvitset 10 tikkiä.

Tehtävä 4

♠ K742
♥ A9
♦ 8642
♣ AK65

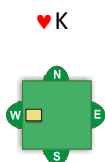


♠ A863
♥ 8
♦ QJ1095
♣ Q74

- Kuinka monta valttia puolustuksella on yhteensä?
- Kummasta kädestä lasket menevät ?
- Kuinka monta menevää on siinä kädessä?
- Tarvitsetko valtteja ennen kuin valtaat?
- Kun valttaat, molemmat tunnustavat 2 kierrosta, poistatko puolustuksen viimeisen valtin?
- Pohjoinen lähtee ♥Q:lla. Tee pelinvientisuunnitelma kun tarvitset 10 tikkiä.

Tehtävä 5

♠ AKQ82
♥ AJ5
♦ 96
♣ A86



♠ 974
♥ 8
♦ AK75
♣ J732

- Kuinka monta valttia puolustuksella on yhteensä?
- Kummasta kädestä lasket menevät ?
- Kuinka monta menevää on siinä kädessä?
- Tarvitsetko valtteja ennen kuin valtaat?
- Pohjoinen lähtee ♥K:lla. Tee pelinvientisuunnitelma kun tarvitset 10 tikkiä.

Tehtävä 6

♠ AQ52
♥ KQ
♦ J1083
♣ A96

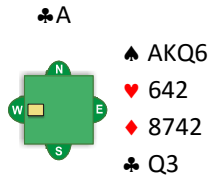


♠ KJ74
♥ 94
♦ KQ974
♣ 752

- Kuinka monta valttia puolustuksella on yhteensä?
- Kummasta kädestä lasket menevät ?
- Kuinka monta menevää on siinä kädessä?
- Tarvitsetko valtteja ennen kuin valtaat?
- Pohjoinen lähtee ♥2:lla. Etelä voittaa tikin ässällä ja jatkaa herttaa. Tee pelinvientisuunnitelma kun tarvitset 10 tikkiä.

Tehtävä 7

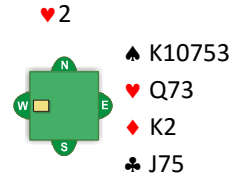
♠ J974
♥ AQJ
♦ KQJ10
♣ 62



- Kuinka monta valttia puolustuksella on yhteensä?
- Kummasta kädestä lasket menevät ?
- Kuinka monta menevää on siinä kädessä?
- Tarvitsetko valtteja ennen kuin valtaat?
- Pohjoinen lähtee ♣A:lla ja jatkaa kuninkaalla.
Kolmanteen tikkiin pohjoinen jatkaa pienen padan.
Tee pelinvientisuunnitelma kun tarvitset 10 tikkiä.

Tehtävä 8

♠ QJ82
♥ 4
♦ A8754
♣ A42



- Kuinka monta valttia puolustuksella on yhteensä?
- Kummasta kädestä lasket menevät ?
- Kuinka monta menevää on siinä kädessä?
- Pohjoinen lähtee ♥2:lla. Etelä ottaa tikin sotamiehellä ja kääntää pienen padan. Pohjoinen ottaa tikin ässällä ja jatkaa toisen padan, johon etelä tunnustaa.
Tee pelinvientisuunnitelma, jotta saat 10 tikkiä.

Vastaukset tehtäviin

Tehtävä 1

- a) Sinulla on yhteensä 9 valttia, joten puolustuksella on 4
- b) Lännen (W) kädestä
- c) 4 menevää: $0\spadesuit + 1\heartsuit + 2\diamonds + 1clubsuit$
- d) Et tarvitse, ei ole varastettavaa lyhyempään valttiin eli idän käteen
- e) Valtti istuu puolustuksella 3 - 1, joten tarvitset siis 3 kierrosta
- f) Varastat toisen herttakieroksen ja valttaat 3 kierrosta. Tämän jälkeen aloitat ruudun kasvattamisen. Kun puolustus on kiinni isolla ruudulla (A tai K), se jatkaa herttaa, jonka varastat käteen ja jatkat ruudun kasvatusta. Kun puolustus on toisen kerran kiinni, niin se jatkaa joko herttaa tai ristiä.
Ristijatkon otat käteesi kuninkaalla ja pelaat kasvaneet ruutusi. Viimeiselle ruudulle heität pöydästä pienen ristin pois. Pelaat lopuksi ristin pöydän ässälle ja viimeisen tikin saat pöydän valtilta.
Herttajakon varastat pöytään ja heität kädestäsi ristin pois. Nyt voit ottaa pöydästä ristiässän ja jatkaa ristiä kuninkaalle. Kädessäsi on jäljellä vain vahva(t) ruudut ja valtti.
Menetät 3 tikkiä: $0\spadesuit + 1\heartsuit + 2\diamonds + 0clubsuit$, saat siis 10 tikkiä: $6\spadesuit + 0\heartsuit + 2\diamonds + 2clubsuit$

Tehtävä 2

- a) Sinulla on yhteensä 8 valttia, joten puolustuksella on 5
- b) Lännen (W) kädestä
- c) 3-4 menevää: $0-1\spadesuit + 2\heartsuit + 0\diamonds + 1clubsuit$
- d) Et tarvitse, ei ole varastettavaa lyhyempään valttiin eli idän käteen
- e) Varastat 3. herttakieroksen käteen ja aloitat valtin poiston. Ainut toivo saada tarvittavat 10 tikkiä on, että valtti istuu puolustuksella tasan (3-2) eikä valttirouva saa tikkiä. Koska sinulla on 8 kortin maa, niin leikkaat rouvan. Pelaat siis pataa kuninkaalle ja sieltä pienen padan kohti AJ-haarukkaa. Kun etelä pelaa pienen, niin yrität saada sotamiehellä tikin, jos taas etelä pelaa rouvan, niin pelaat ässän. Jos leikkaus onnistuu ja molemmat puolustajat tunnustavat toiseen valttikierrokseen, niin pelaat vielä 3. kierroksen valttia poistaaksesi puolustuksen viimeisen valtin. Kun puolustuksen valtit ovat poissa, niin kasvatat ristitikit.
Menetät 3 tikkiä: $0\spadesuit + 2\heartsuit + 0\diamonds + 1clubsuit$, saat siis 10 tikkiä: $5\spadesuit + 0\heartsuit + 3\diamonds + 2clubsuit$

Tehtävä 3

- a) Sinulla on yhteensä 9 valttia, joten puolustuksella on 4
- b) Lännen (W) kädestä
- c) 5 menevää: $0\spadesuit + 2\heartsuit + 3\diamonds + 0clubsuit$, yhden ruudun voit varastaa pöytään, joten meneviä on 4. 5 menevää:
Lisäksi voit heittää 2 menevää pöydän risteille.
- d) Et tarvitse, ei ole varastettavaa lyhyempään valttiin eli idän käteen
- e) Otat 1. tikin ässällä, poistat puolustuksen valtit (2 tai 3 kierrosta, riippuen onko valtti 2-2 vai 3-1), pelaat ristikuninkaan ja pienen ristin pöydän kuville ja pelaat loput isot ristit pöydässä. Heität risteille pienet hertat pois kädestä.
Annat 2 ruutua puolustukselle ja varastat viimeisen ruudun pöytään.
Menetät 2 tikkiä: $0\spadesuit + 0\heartsuit + 2\diamonds + 0clubsuit$, saat siis 11 tikkiä: $6\spadesuit + 1\heartsuit + 0\diamonds + 4clubsuit$
Mletittävää: miksi heität risteille 2 herttaa etkä 2 ruutua ?

Tehtävä 4

- a) Sinulla on yhteensä 8 valttia, joten puolustuksella on 5
- b) Nyt sinulla on yhtä pitkä valtti kummassakin kädessä, joten on sama kummasta kädestä lasket menevät.
Tässä jaossa on ehkä helpompi laskea menevät idän (E) kädestä.
- c) 3 menevää, kunhan valtti on puolustuksella tasan: $1\spadesuit + 0\heartsuit + 2\diamondsuit + 0\clubsuit$
- d) Et tarvitse
- e) Et poista. Puolustuksen viimeinen valtti on vahva, jonka hän saa jossain vaiheessa joka tapauksessa.
Yleensä pelinviejän ei kannata poistaa viimeistä puolustuksen valttia, jos se on vahva: pelinviejältä kuluksi kaksi valttia poistaakseen puolustuksen yhden valtin, jolla puolustus saa joka tapauksessa jossain vaiheessa tikin.
Tässä jaossa menetät tempon ruutuväriin kasvatukseseen, jos päästät puolustuksen kiinni isolla padalla: puolustus jatkaa herttaa, jonka varastat, mutta joudut päästämään puolustuksen kaksi kertaa kiinni, ennen kuin ruutusi on kasvanut. Jos puolustus kääntää koko ajan herttaa, sinulta loppuvat valtit ja puolustus saa herttatikkinsä.
- f) Otat siis 1. tikin ässällä ja pelaat 2 kierrosta valttia. Sen jälkeen alat kasvattamaan ruutua. Puolustus saa tikin ässällä tai kuninkaalla, pelaa ison valttinsa ja jatkaa herttaa. Nyt varastat hertan pöytään (heität kädestä ristin pois) ja jatkat toisen ruudun. Puolustus saa taas tikin, mutta sinulla on vielä yksi valtti kädessä jäljellä, jolla voit varastaa herttajatkon ja saat loput tikit.
Menetät 3 tikkiä: $1\spadesuit + 0\heartsuit + 2\diamondsuit + 0\clubsuit$, oikeastaan sinulla on jo 11 tikkiä: $4\spadesuit + 1\heartsuit + 3\diamondsuit + 3\clubsuit$ - mutta ennen kuin saat nautittua kasvaneet tikkisi, niin puolustus on ennättänyt ottaa 3 tikkiä, joten saat vain 10 tikkiä.

Tehtävä 5

- a) Sinulla on yhteensä 8 valttia, joten puolustuksella on 5
- b) Lännen (W) kädestä
- c) 4 menevää: $0\spadesuit + 2\heartsuit + 0\diamondsuit + 2\clubsuit$ - menevät lasketaan alussa olettamuksella että valtti on tasan tai jos sinulla on 9 kortin valtti, se istuu puolustuksella korkeintaan 3-1.
- d) Tarvitset, sinun pitää varastaa 2 hertta pöytään ennen valttaamista.
- e) Otat 1. tikin ässällä ja jatkat pienen hertan, jonka varastat pöytään. Tulet takaisin käteen pelamalla kierroksen valttia ja otat toisen herttavarkauden pöytään. Pöydästä on nyt valtit loppu, joten 5. tikkiin pelaat ristiä käden ässälle, jotta saat poistettua puolustuksen loput valtit. Jatkat siis isoilla valteilla ja jos valtti oli nyt 3-2 saat loput tikit.
Jos pata istuu huonosti eli jommalla kummalla puolustajalla on 4 kortin valtti, niin saat kuitenkin 10 tikkiä.
Menetät 2(3) tikkiä: $0(1)\spadesuit + 0\heartsuit + 0\diamondsuit + 2\clubsuit$, saat siis 11(10) tikkiä: $7(6)\spadesuit + 1\heartsuit + 2\diamondsuit + 1\clubsuit$

Tehtävä 6

- a) Sinulla on yhteensä 8 valttia, joten puolustuksella on 5
- b) Nyt sinulla on yhtä pitkä valtti kummassakin kädessä, joten on sama kummasta kädestä lasket menevät.
Tässä jaossa on ehkä helpompi laskea menevät lännen (W) kädestä.
- c) 4 menevää: $0\spadesuit + 1\heartsuit + 1\diamondsuit + 2\clubsuit$
- d) Et tarvitse, joten voit valtata heti kun pääset kiinni
- e) Saat toisen tikin herttakuvalla käteen ja aloitat puolustuksen valtin poiston. Jos molemmat tunnustavat 2 valtti-kierrokseen, niin jatkat kolmannen kierroksen valttia poistaaksesi puolustuksen viimeisenkin valtin. Sitten kasvatat ruudun. Muista pelata ensin kuvat lännen kädestä! Jos puolustus kääntää herttaa ollessaan kiinni ruutuässällä, niin varastat tikin pöytään ja kädestä heität ristin pois. Pelaat pöydästä kasvaneet ruudut ja viimeiseen ruutuun heität pois toisen ristin. Jäljellä sinulla on kädessä ristiässä ja valtti, joten menetät vain punaiset ässät ja saat 11 tikkiä.
Jos puolustus jatkaa ruutuässän jälkeen ruutua tai ristiä niin saat vain 10 tikkiä: saat viimeiselle ruudulle heitettyä ristin, mutta lopussa menetät vielä ristitikin. Puolustuksen pitää siis varoa kääntämästä maata, jota pelinviejällä ei ole kummassakaan kädessä ns. "tuplarenonssi", mutta molemmissa käsissä on vielä valttia.
Jos puolustuksen valtti istuu 4-1, joudut kasvattamaan ruudun ennen kuin pelaat 3. valtikierroksen. Silloin sinun on vaan toivottavaa, ettei puolustus saa ruutuvarkautta.

Tehtävä 7

- a) Sinulla on yhteensä 8 valttia, joten puolustuksella on 5
- b) Nyt sinulla on yhtä pitkä valtti kummassakin kädessä, joten on sama kummasta kädestä lasket menevät. Tässä jaossa on ehkä helpompi laskea menevät lännen (W) kädestä.
- c) 3-4 menevää, $0\spadesuit + 0-1\heartsuit + 1\diamondsuit + 2\clubsuit$. Herttamenevästä pääset, jos leikkaus onnistuu.
- d) Sinun pitää tehdä herttaleikkaus kaksi kertaa. Pääset pöytään pelaamaan sieltä herttaa kuvia kohti ainoastaan valtilla. Joten joudut käyttämään valttejasi yhteyskortteina.
- e) Otat patakäännön kiinni pöytään ja jatkat pienen hertan pöydästä kohti käden kuvia. Kun etelä pelaa pienen (toinen käsi matalaa), niin pelaat sotilaan. Jos saat pitää niin nyt poistat puolustuksen valtit (jos ne istuu 3-2). Pidät huolen, että olet 3. valttikierroksen jälkeen pöydässä kiinni tehdäksesi uuden herttaleikkauksen. Sen jälkeen vaan kasvatat ruutuvärisi.
Menetät 3 tikkiä (kunhan herttaleikkaus onnistuu): $0\spadesuit + 0\heartsuit + 1\diamondsuit + 2\clubsuit$, saat siis 10 tikkiä: $4\spadesuit + 3\heartsuit + 3\diamondsuit + 0\clubsuit$

Tehtävä 8

- a) Sinulla on yhteensä 8 valttia, joten puolustuksella on 5
- b) Idän (E) kädestä
- c) 4(6) menevää: $1\spadesuit + 1(3)\heartsuit + 0\diamondsuit + 2\clubsuit$, voit varastaa pöytään 2 menevää herttaa, joten siinä ei ole kuin 1 menevä
- d) Nyt puolustus on hoitanut valttien poiston, toivoen estävänsä herttavarkauksia pöytään.
Ongelmanasi on enää ristimenevien - tai ainakin toisen - hävittäminen. Se onnistuu kasvattamalla käden ruutu, kunhan väri ei ole puolustuksella 5-1. Eli neljänteen tikkiin pelaat ruutukuninkaan ja pienen ruudun pöydän ässälle. Jos kumpikin puolustaja tunnusti toiseenkin kierrokseen, niin jatkat pienen ruudun, jonka varastat pöytään. Jos molemmat puolustajat tunnistivat eli ruutu oli puolustuksella tasan 3-3, menet käteen vaikka ristiässällä ja pelaat kasvaneet kaksi ruutua, joihin heität menevät ristit pois. Nyt pelaat loppuun vuorokuppia: ristivarkaus pöytään ja herttavarkaus käteen, uusi ristivarkaus pöytään ja viimeisen tikin saat herttavarkaudella käteen.
Menetät 2 tikkiä: $1\spadesuit + 1\heartsuit + 0\diamondsuit + 0\clubsuit$, saat siis 11 tikkiä: $6\spadesuit + 0\heartsuit + 4\diamondsuit + 1\clubsuit$
Jos ruutu istuukin puolustuksella 4-2 eli toinen ei enää tunnustanut kolmanteen ruutukierrokseen, niin pelinvienti ei paljon muutu: ristiässällä taas takaisin käteen ja ruutua. Nyt vaan joudut varastamaan tämänkin ruutukierroksen, koska maa ei ole vielä kasvanut. Nyt taas herttavarkaudella käteen ja nyt viimeinen käden ruutu on vahva. Pelaat sen ja heität toisen menevän ristisi pois. Nyt joudut antamaan yhden ristin, mutta saat vielä herttavarkauden ja ristivarkauden. Menetät 3 tikkiä: $1\spadesuit + 1\heartsuit + 0\diamondsuit + 1\clubsuit$, saat siis 10 tikkiä: $6\spadesuit + 0\heartsuit + 3\diamondsuit + 1\clubsuit$.